

# 認識一至五

日期：\_\_\_\_\_

## 1. 數字練習：「一至五」

一				五

## 2. 請順序用線連起「一至五」，幫助小狗回家。




# 認識六至十

日期：\_\_\_\_\_

## 1. 數字練習：「六至十」

六				十

## 2. 數數花朵的數量，並用線連上適當的數字。



•

•

六



•

•

七



•

•


八



•

•

九



•

•

十

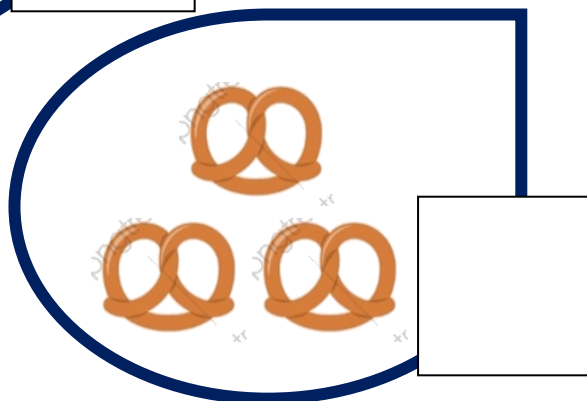

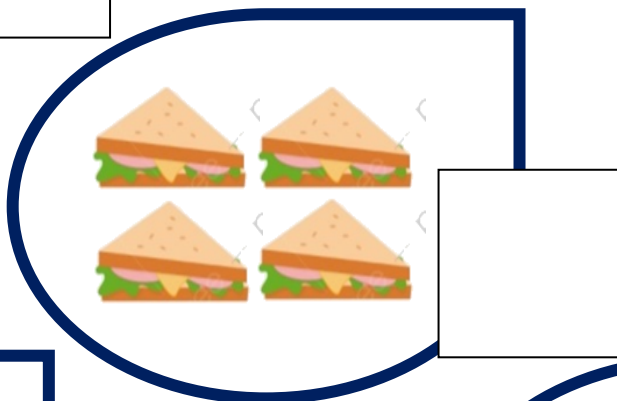

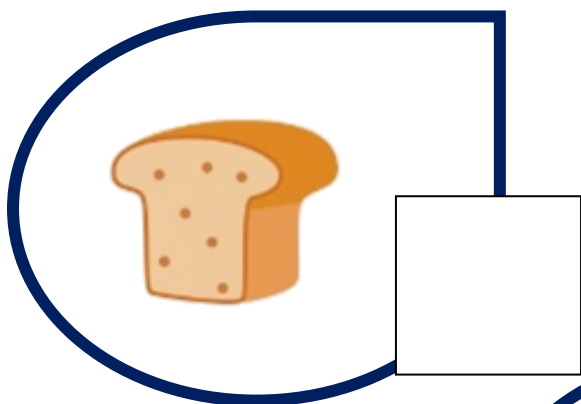
# 認識一至十

日期: \_\_\_\_\_

1. 請順序寫出「一至十」。

一				
六				十

2. 請數一數以下麵包的數量，然後  內寫出正確的中國數字。




3. 麵包店內有多少個麵包？請圈出正確的數字。

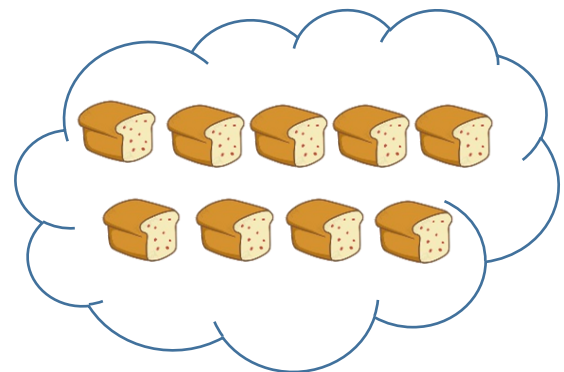



六 七 八 個

4. 請數數以下兩款麵包的數量，將數量是七的麵包填上紅色，數量是八的麵包填上黃色。



5. 數數麵包的數量，並與相配數字連起來。



●  
●  
九

●  
●  
十

# 認識十一至十五

日期：\_\_\_\_\_

## 1. 數字練習：「十一至十五」

十一				十五

## 2. 請數出以下花朵的數量，然後圈出正確的答案。






十一

十二

十三

朵

3. 數數花朵的數量，並用線連上適當的數字。



十二



十三





十四

4. 請順序寫出適當的數字。

十一



十三







# 認識十六至二十

日期：\_\_\_\_\_

## 1. 數字練習：「十六至二十」

十六				二十

## 2. 數數以下水果的數量，並圈出正確的數字。

	十七	二十
	十八	十九
	十六	十五
	十四	十七